

Итоговая работа по географии за курс 9 класса

1 вариант

Раздел А

1. Какая экологическая проблема, вызванная антропогенным воздействием, характерна для Северного Прикаспия?
 - 1) оврагообразование
 - 2) нарушение земель горными разработками
 - 3) вторичное засоление почв
 - 4) заболачивание территории
2. Какой из перечисленных народов России является наиболее многочисленным?
 - 1) коми
 - 2) калмыки
 - 3) татары
 - 4) чувашаи
3. Какой из обозначенных на карте России регионов имеет наименьшую среднюю плотность населения?



4. Какое из утверждений о топливно-энергетическом комплексе России верно?
 - 1) Крупные месторождения нефти находятся на шельфе Баренцева моря
 - 2) Россия занимает первое место в мире по запасам угля
 - 3) В структуре ТЭБ России преобладает уголь
 - 4) Основная часть нефти в России добывается в Поволжье
5. Почему сахарная промышленность развита в основном в Центрально-Черноземном и Северо-Кавказском районах?
 - 1) В этих районах находятся основные посевы сахарной свеклы
 - 2) Отходя этой отрасли являются кормовой базой для развития здесь свиноводства
 - 3) В этих районах находятся основные потребители продукции отрасли
 - 4) В этих районах имеются крупные электростанции
6. Какой из перечисленных городов Центрального района является центром текстильной промышленности?
 - 1) Рязань
 - 2) Иваново
 - 3) Курск
 - 4) Липецк
7. Какой из перечисленных городов Поволжья является наиболее крупным по численности населения?
 - 1) Саратов
 - 2) Волгоград
 - 3) Тольятти
 - 4) Астрахагь

8. Какими морями омывается территория Дальнего Востока?
 1) Японским и Карским
 2) Беринговым и Охотским
 3) Восточно-Сибирским и Баренцевым
 4) Лаптевых и Северным
9. Какая экологическая проблема, вызванная антропогенным воздействием характерна для Калмыкии?
 1) оврагообразование
 2) нарушение земель горными разработками
 3) деградация естественных пастбищ
 4) заболачивание территории
10. Буряты компактно проживают:
 1) в Поволжье 2) на Урале 3) в Сибири 4) на Камчатке
11. Какой из обозначенных на карте России регионов имеет наибольшую среднюю плотность населения?



12. Какое из утверждений о ТЭК России верно?
 1) крупные месторождения нефти находятся на шельфе Черного моря
 2) Россия занимает первое место в мире по запасам газа
 3) В структуре ТЭБ России преобладает уголь
 4) Основная часть нефти в России добывается на Северном Кавказе
13. В каком из перечисленных регионов России расположены наиболее крупные посевы пшеницы?
 1) Архангельская область
 2) Белгородская область
 3) Новгородская область
 4) Псковская область
14. В Центральной России фосфориты добывают в:
 1) Воронежской области
 2) Белгородской области
 3) Курской области
 4) Брянской области
15. Какой из перечисленных народов относится к коренным народам Поволжья?
 1) адыгейцы 2) немцы 3) хакасы 4) чувашаи

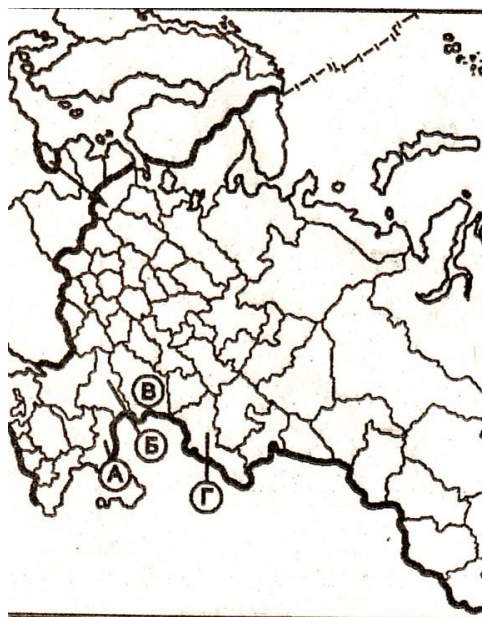
Раздел В

1. Установите соответствие между видом ресурсов и относящимися к нему природными ресурсами:
 1) Неисчерпаемые а) лесные

- | | |
|-------------------------------|---------------------|
| 2) Исчерпаемые возобновимые | б) энергия приливов |
| 3) исчерпаемые невозобновимые | в) руды металлов. |

2. Установите соответствие между субъектом Российской Федерации и буквой, которой он обозначен на фрагменте политико-административной карты России:

- | | |
|--------------------------|-------|
| РЕГИОН | БУКВА |
| 1) Волгоградская область | А) А |
| 2) Саратовская область | Б) Б |
| 3) Оренбургская область | В) В |
| | Г) Г |



3. Установите соответствие между народом и языковой семьей, к которой он относится:

- | | |
|-------------|----------------------|
| НАРОД | ЯЗЫКОВАЯ СЕМЬЯ |
| 1) удмурты | А) индоевропейская |
| 2) татары | Б) алтайская |
| 3) украинцы | В) уральская |
| | Г) северо-кавказская |

4. Установите соответствие между продукцией автомобилестроения и центром ее производства в Поволжье:

- | | |
|---------------------------------------|---------------------|
| ПРОДУКЦИЯ | ЦЕНТ ПРОИЗВОДСТВА |
| 1) грузовые автомобили «КамАЗ» | А) Тольятти |
| 2) легковые автомобили «Жигули (ВАЗ)» | Б) Энгельс |
| 3) троллейбусы | В) Набережные Челны |
| | Г) Казань |

5. Определите регион России по краткому описанию:

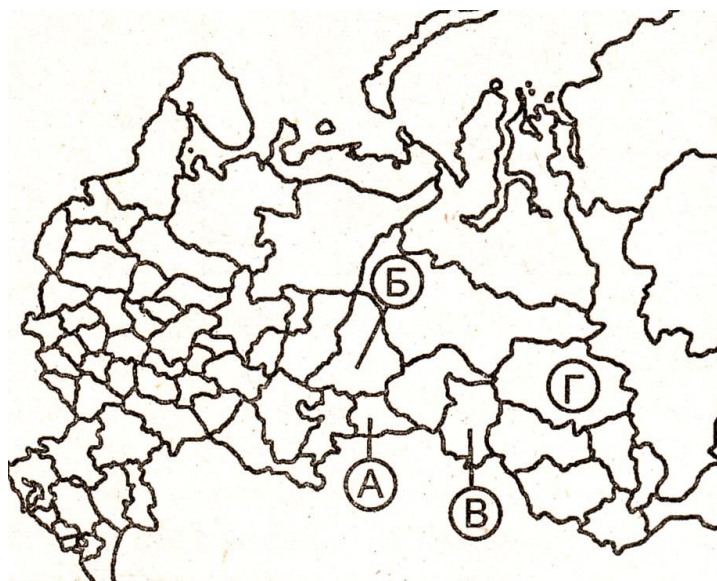
«Этот район – один из крупнейших по территории экономических районов страны; он отличается высоким уровнем урбанизации. Ведущими отраслями специализации являются: топливная промышленность, черная и цветная металлургия, лесная, деревообрабатывающая и целлюлозно-бумажная промышленность, а также рыбная промышленность. Основную долю электроэнергии района вырабатывают ТЭС и одна АЭС; здесь расположена единственная в стране ПЭС. АПК развит слабо и специализируется на молочном животноводстве.»

6. Установите соответствие между субъектом и буквой, которой он обозначен на фрагменте политико-административной карты РФ:

- | | |
|--------|-------|
| РЕГИОН | БУКВА |
|--------|-------|

- 1) Томская область
- 2) Омская область
- 3) Курганская область

- А) А
- Б) Б
- В) В
- Г) Г



7. Установите соответствие между народом и языковой семьей, к которому он относится:

НАРОД

- 1) карелы
- 2) якуты
- 3) русские

ЯЗЫКОВАЯ СЕМЬЯ

- А) северо-кавказская
- Б) алтайская
- В) индоевропейская
- Г) уральская

8. Установите соответствие между цветным металлом и центром производства в Западно-Сибирском экономическом районе:

МЕТАЛЛ

- 1) цинк
- 2) алюминий
- 3) олово

ЦЕНТР ПРОИЗВОДСТВА

- А) Белово
- Б) Новокузнецк
- В) Новосибирск
- Г) Томск

9. Определите регион России по его краткому описанию:

«Волга делит территорию этой области на две части. Хозяйственный комплекс выделяется электроэнергетикой (работают крупные ТЭС, ГЭС, АЭС), машиностроением, нефтехимией, пищевой промышленностью. На черноземных и каштановых почвах выращивают яровую пшеницу, сахарную свеклу, подсолнечник. Административный центр области долгое время был одним из центров торговли зерном и мукомольной промышленности в России. Сейчас это крупный промышленный, научный и культурный центр. В городе имеются предприятия по производству самолетов, автомобильного оборудования, химической промышленности и нефтепереработки. Город является крупным транспортным узлом – это речной порт, он стоит на пересечении железных и автомобильных дорог, через него проходят газопроводы. Численность населения областного центра еще не достигла 1 млн. и составляет около 879 тыс. человек.

Раздел С

1. Чем объяснить наличие целлюлозно-бумажного комбината в городе Братске?
2. В каком регионе России: Архангельской или Саратовской области, необходимо уделять больше внимания мерам, предупреждающим развитие водной эрозии? Свой ответ обоснуйте.

3. В Омске создан нефтегазохимический комплекс, который в том числе включает заводы: нефтеперерабатывающий, синтетического каучука, шинный, резинотехнических изделий. Объясните данное сочетание производств Омска.

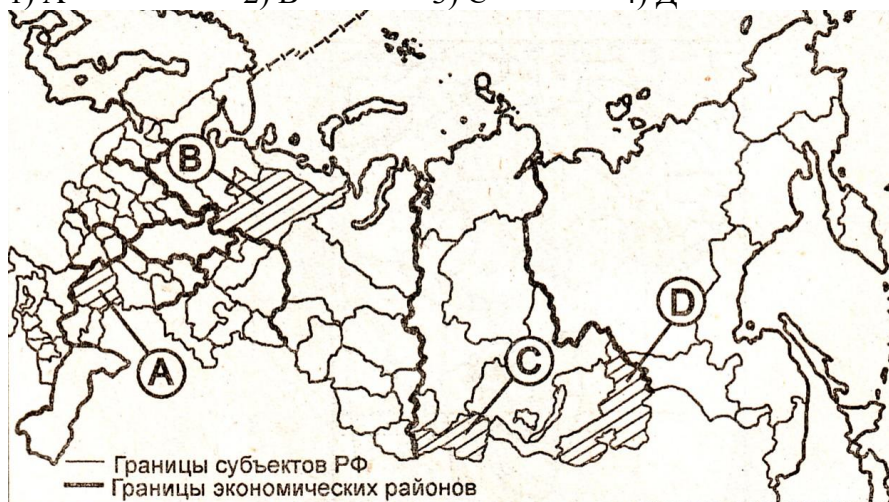
Итоговая работа по географии за курс 9 класса

2 вариант

Раздел А

1. Какой буквой на карте России обозначена республика Коми?

- 1) А 2) В 3) С 4) Д



2. Большинство верующих какого народа исповедуют буддизм?

- 1) Калмыки 2) Чувашаи 3) Адыгейцы 4) Якуты

3. В каком из перечисленных регионов средняя плотность населения наибольшая?

- 1) Алтайский край 2) Красноярский край
3) Республика Коми 4) Архангельская область

4. Размещение какой отрасли лесной промышленности не совпадает с размещением районов лесозаготовок?

- 1) лесопиление 2) лесохимия
3) целлюлозно-бумажная промышленность 4) мебельная промышленность

5. В какой части России расположены наиболее крупные посевы льна?

- 1) юг европейской части России 2) северо-запад европейской части России
3) Южный Урал 4) Западная Сибирь

6. Сельское хозяйство Центральной России специализируется на:

- 1) виноградарстве 2) хлопководстве
3) льноводстве 4) зерновом хозяйстве

7. Какой из перечисленных городов Уральского экономического района является наиболее крупным по численности населения?

- 1) Ижевск 2) Оренбург 3) Магнитогорск 4) Уфа

8. Отраслью специализации Восточно-Сибирского экономического района является:

- 1) скотоводство молочного направления 2) легкая промышленность
3) электроэнергетика 4) морской транспорт

9. Кабардинцы компактно проживают:

- 1) в Поволжье 2) на Урале 3) в Сибири 4) на Кавказе

10. Какой из перечисленных городов России имеет наибольшую численность населения?

- 1) Архангельск 2) Вологда 3) Тамбов 4) Уфа

11. В какой из перечисленных областей лесная, деревообрабатывающая и целлюлозно-бумажная промышленность являются ведущими отраслями промышленности?

- 1) Архангельска 2) Белгородская 3) Владимирская 4) Псковская

12. В пределах какой из обозначенных на карте России территорий расположены наиболее крупные посевы пшеницы?

- 1) А 2) В 3) С 4) Д



13. Какая из отраслей является отраслью специализации Поволжского экономического района?

- 1) черная металлургия 2) цветная металлургия
3) химическая промышленность 4) лесная промышленность

14. Какая отрасль является отраслью специализации машиностроения дальнего Востока?

- 1) автомобилестроение 2) судостроение
3) тракторостроение 4) вагоностроение

15. На границе с каким из перечисленных государств расположена крайняя южная точка России?

- 1) Китай 2) Турция 3) Азербайджан 4) Армения

Часть В

1. Установите соответствие между видом ресурсов и относящимися к нему природными ресурсами:

ВИД РЕСУРСОВ

- 1) исчерпаемые невозобновимые
2) исчерпаемые возобновимые
3) неисчерпаемые

ПРИРОДНЫЕ РЕСУРСЫ

- 1) энергия Солнца
2) гидроэнергетические
3) природный газ

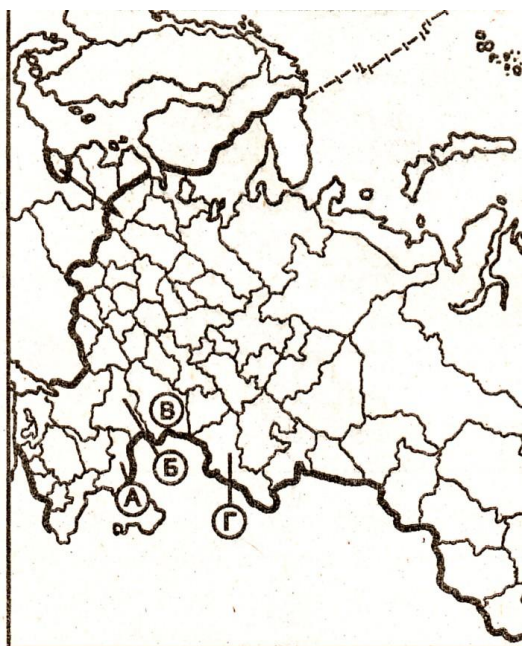
2. Установите соответствие между субъектом и буквой, которой он обозначен на фрагменте политико-административной карты РФ:

РЕГИОН

БУКВА

- 1) Волгоградская область
- 2) Астраханская область
- 3) Оренбургская область

- А) А
- Б) Б
- В) В
- Г) Г



3. Укажите три народа, большинство верующих которых исповедуют ислам?

- | | | |
|------------|------------|---------------|
| 1) башкиры | 2) татары | 3) хакасы |
| 4) якуты | 5) чувашаи | 6) кабардинцы |

4. Выберите три города России, которые являются крупными центрами производства металлического алюминия:

- | | | |
|-------------|---------------|-----------|
| 1) Шелехов | 2) Саяногорск | 3) Орск |
| 4) Норильск | 5) Надвоицы | 6) Ижевск |

5. Определите регион России по краткому описанию:

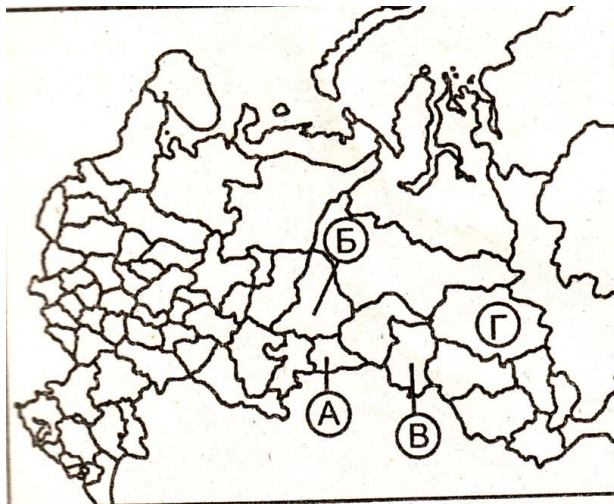
«Эта республика граничит с Нижегородской и Ульяновской областями и с тремя республиками. На самом севере ее территорию пересекает Волга. Два крупнейших города республики (столица и ее город-спутник, возникший как поселок при сооружении ГЭС), расположены на берегу Волжского водохранилища. Промышленность сконцентрирована в столице – завод промышленных тракторов, хлопчатобумажный комбинат и трикотажная фабрика. Коренное население относится к тюрской группе, исповедует православие.

6. Установите соответствие между субъектом РФ и буквой, которой он обозначен на фрагменте политико-административной карты РФ:

РЕГИОН

БУКВА

- | | |
|-------------------------|------|
| 1) Свердловская область | А) А |
| 2) Курганская область | Б) Б |
| 3) Омская область | В) В |
| | Г) Г |



7. Укажите три народа, большинство верующих которых исповедуют православие?

- | | | |
|------------|-----------|---------------|
| 1) башкиры | 2) якуты | 3) хакасы |
| 4) татары | 5) чуваша | 6) кабардинцы |

8. Выберите три города России, которые являются крупными центрами производства меди:

- | | | |
|------------------|----------------|-----------|
| 1) Красноярск | 2) Новосибирск | 3) Ревда |
| 4) Красноуральск | 5) Мончегорск | 6) Липецк |

9. Определите регион России по краткому описанию:

« Эта область в европейской части России занимает пограничное положение. Основу электроэнергетики составляют АЭС. Промышленность представлена предприятиями машиностроения – электро- и радиотехники, приборостроения. Область выделяется производством льноволокна и льняных тканей, трикотажных изделий. Через территорию области проходят важные транспортные магистрали России. Административный центр области стоит в верховьях крупной реки, впадающей в Черное море.

Часть С

1. Почему сельское хозяйство Читинской области имеет ярко выраженное животноводческое направление?
2. Почему на территории Ростовской области естественные природные ландшафты сохранились в меньшей степени, чем в Ненецком автономном округе?
3. Чем объяснить размещение завода передельной металлургии в городе Таганроге.