

Вариант 1

- 1. Какая из перечисленных пустынь находится в Южном полушарии?**
 - 1) Атакама
 - 2) Сахара
 - 3) Гоби
 - 4) Руб-эль-Хали
- 2. На каком материке находится самая полноводная река мира?**
 - 1) Африка
 - 2) Южная Америка
 - 3) Евразия
 - 4) Северная Америка
- 3. У берегов какого из перечисленных материков проходит океаническое течение Гольфстрим?**
 - 1) Австралия
 - 2) Южная Америка
 - 3) Северная Америка
 - 4) Африка
- 4. Какая из перечисленных горных пород является осадочной?**
 - 1) торф
 - 2) гранит
 - 3) кварцит
 - 4) мрамор
- 5. Какой из перечисленных городов является столицей государства?**
 - 1) Милан
 - 2) Вашингтон
 - 3) Барселона
 - 4) Рио-де-Жанейро
- 6. Какой из перечисленных городов, показанных на карте, находится в зоне действия антициклона?**
 - 1) Архангельск
 - 2) Омск

Итоговая контрольная работа 7 класс
Курс «География материков и океанов»

3) Магадан

4) Якутск

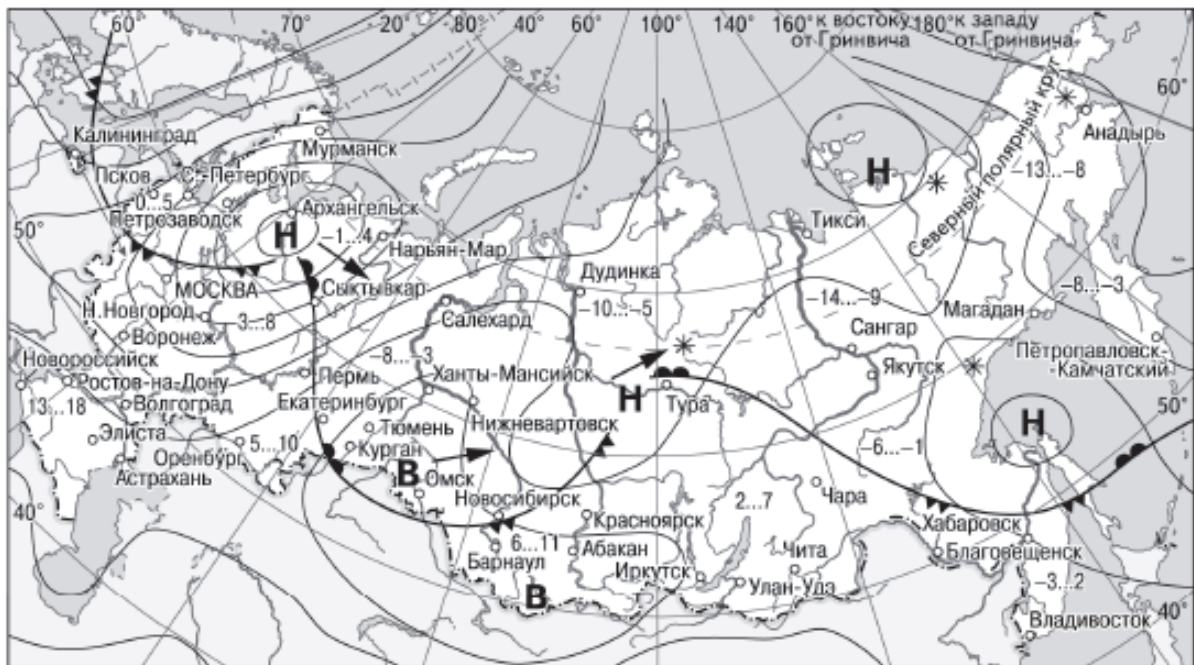
7. В каком из перечисленных городов, показанных на карте, на следующий день будет вероятное похолодание?

1) СЫКТЫВКАР

2) Курган

3) Пермь

4) Барнаул



- В** Область высокого атмосферного давления
- Н** Область низкого атмосферного давления
- Направление перемещения циклонов и антициклонов
- Тёплый атмосферный фронт
- Холодный атмосферный фронт
- 3...2 Температура воздуха (°C)
- * Снег

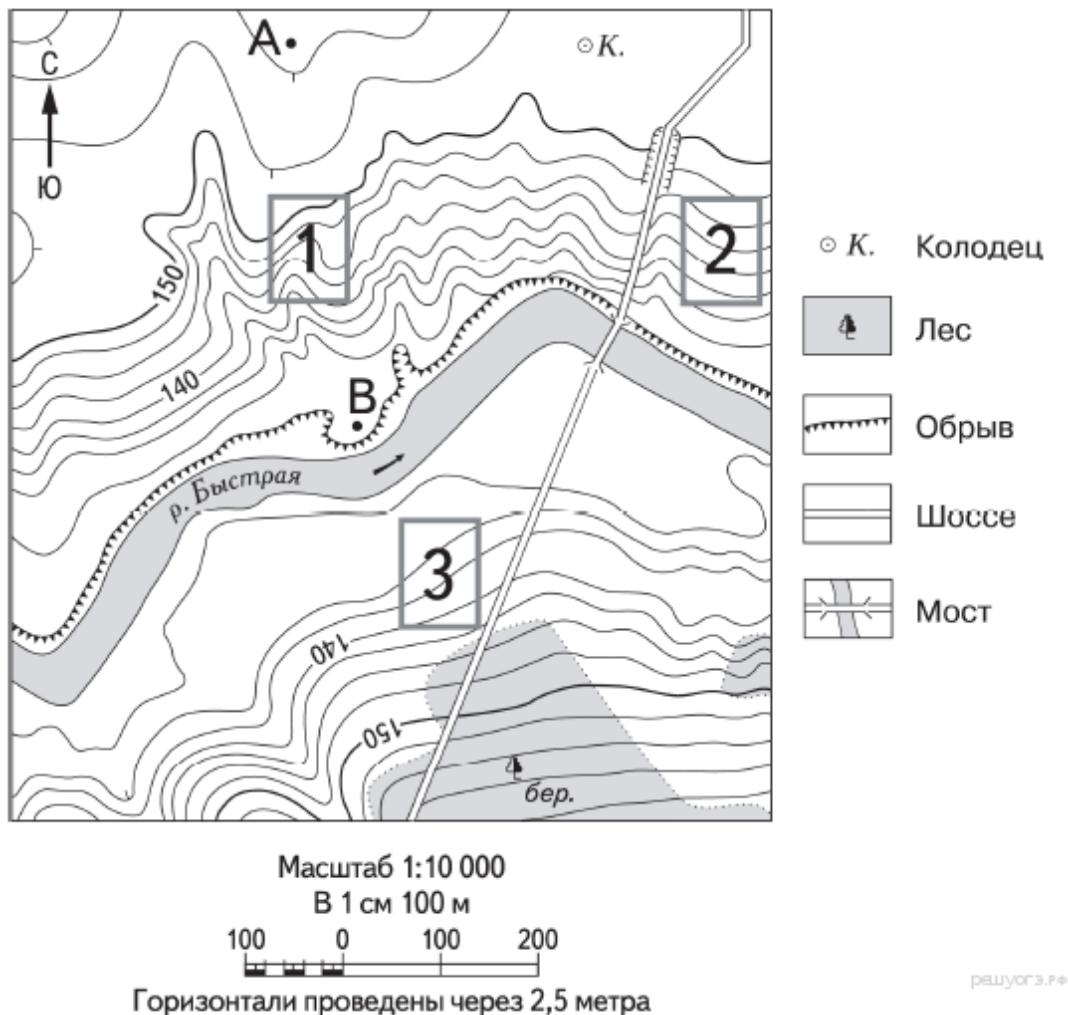
рашуроэ.рф

8. Определите, какой город имеет географические координаты 41° с.ш. 4° з.д.

9. Определите, какая горная вершина имеет географические координаты 43° с.ш. 42° в.д.

10. Определите по карте расстояние на местности по прямой от точки А до колодца. Измерение проводите между точкой и центром соответствующего условного знака. Полученный результат округлите до десятков метров. Ответ запишите в виде числа.

11. Определите по карте в каком направлении от точки В находится колодец.



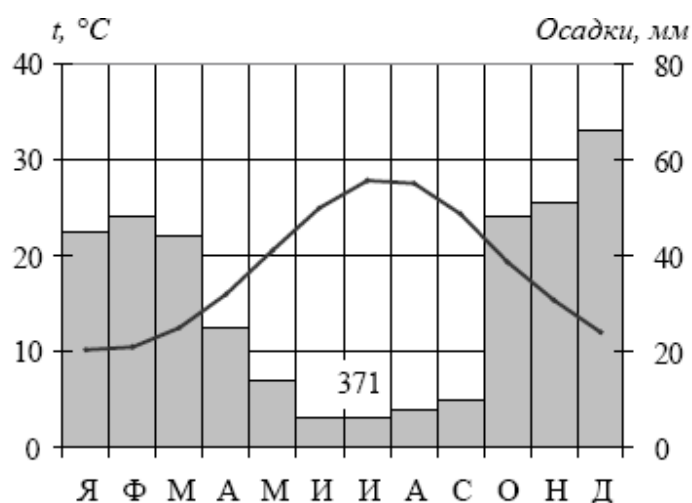
12. Проанализируйте климатограмму и определите, какой буквой на карте обозначен пункт, характеристики климата которого отражены в климатограмме.

- 1) А
- 2) В

Итоговая контрольная работа 7 класс
Курс «География материков и океанов»

3) С

4) D



В заданиях 13 – 15 установите соответствие между страной и ее столицей.

13.

Страна	Столица
1. Испания	А) Прага
2. Австрия	Б) Афины

Итоговая контрольная работа 7 класс
Курс «География материков и океанов»

3. Греция	В) Мадрид
	Г) Вена

14.

Страна	Столица
1. Иран	А) Джакарта
2. Вьетнам	Б) Исламабад
3. Индонезия	В) Тегеран
	Г) Ханой

15.

Страна	Столица
1. США	А) Лима
2. Мексика	Б) Буэнос-Айрес
3. Перу	В) Мехико
	Г) Вашингтон

В заданиях 16 – 17 определите государство по его краткому описанию

16. Государство расположено на четвертом по площади материке в восточной его части. Государственным языком является португальский язык. Столица занимает континентальное положение. По территории государства протекает река Амазонка.

17. Это государство расположено на материке Евразия и является одним из крупнейших по численности населения. За последние

десятилетия численность населения в данном государстве сокращается. Государство омывается водами трех океанов. Столица государства расположена на реке, являющейся одним из притоков крупнейшей по протяженности реки Европы

В заданиях 18 – 25 выберите один правильный ответ.

18. Части света:

- А) Африка, Европа, Америка, Австралия, Антарктида, Азия.
- Б) Юж. Америка, Австралия, Сев. Америка, Евразия, Антарктида, Африка.
- В) Европа, Азия, Южная Америка, Австралия, Антарктида.

19. Антарктиду открыли:

- А) Шмидт С,А, Ф.Магелан,
- Б) Р.Амундсен, Пржевальский Ф.Ф.
- В) Ф.Белинсгаузен, М.Лазарев

20.Берега Евразии омывают моря:

- А) Южного океана
- Б) Северного Ледовитого, Атлантического, Тихого, Индийского океанов
- В) Атлантического, Индийского, Тихого океанов.

21.Самыми высокими горными системами Евразии являются:

- А) Анды, Кордильеры, Аппалачи
- Б) Гималаи, Памир, Тибет
- В) Скалистые горы, Береговой хребет

22. Крупнейшие реки Северной Америки:

- А) Миссури, Макензи, Юкон.
- Б) Амазонка, Оранжевая, Лимпопо.
- В) Волга, Амур, Сырдарья.

23. Государства Северной Америки:

- А) Бразилия, Аргентина, Чили
- Б) США, Канада, Мексика.
- В) Китай, Россия, Казахстан.

24. Горы Южной Америки:

- А) Анды Б) Аппалачи В) Атлас.

25. Крайние точки Евразии:

- А) Фроуэрд, Сент-Чарлз, Рас-Энгела, Рас-Хафун
- Б) Йорк, Юго-Восточный, Юго-Западный, Байрон
- В) Рока, Челюскин, Пиай, Дежнева